

Chapitre 8 : Quels sont les fondements du commerce international et de l'internationalisation de la production ?

Partie 1 : Les raisons de la hausse du commerce international

Vérification des connaissances

Exercice 1 : Vrai ou faux ?

- La mondialisation commence après 1945.
- Depuis 1945, les exportations mondiales augmentent plus vite que le PIB mondial.
- La diminution des coûts de transport est une des causes de la hausse du commerce international.
- L'OMC est favorable à des droits de douane élevés.
- L'Union Européenne favorise les échanges internationaux entre ses pays membres.
- Les droits de douane élèvent le prix des biens importés.
- Les différences de dotations factorielles expliquent la spécialisation des pays.
- Les avantages comparatifs poussent les pays à ne pas se spécialiser.
- Tous les pays peuvent avoir des gains à l'échange s'ils se spécialisent.

Exercice 2 : Calcul d'un gain à l'échange

Supposons une économie dans laquelle deux pays, l'Angleterre et le Portugal, produisent une certaine quantité de drap et de vin nécessitant un certain nombre d'heures de travail pour une unité produite.

Temps de travail (en heures) par unité produite

	Portugal	Angleterre
Vin	80	120
Drap	90	100

1) Comparez la productivité du Portugal et de l'Angleterre dans chacun des secteurs.

- 2) Pour quel type de production l'Angleterre est-elle moins désavantagée que le Portugal ? Déduisez-en la spécialisation que devrait faire chaque pays.
- 3) Après spécialisation, quels sont les nouveaux besoins en main-d'œuvre dans chaque pays et chaque secteur ?
- 4) En quoi cette spécialisation génère-t-elle des gains à l'échange ?

Etude de documents

Document 1 : L'évolution du commerce international et du PIB mondial

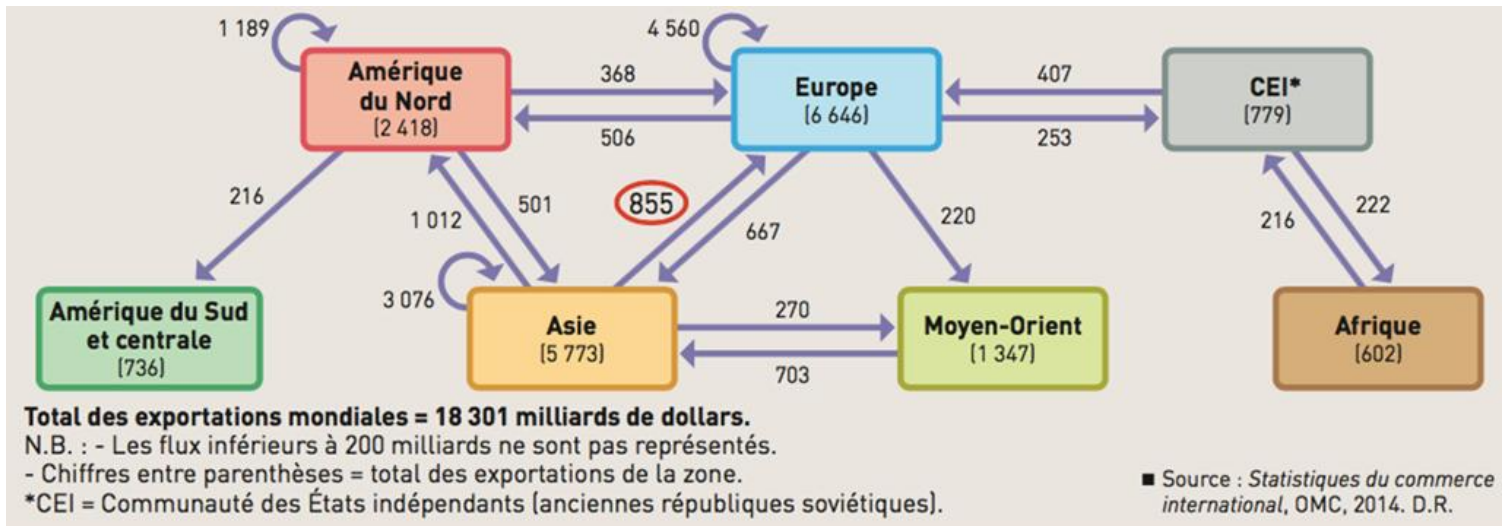
	1960	1970	1980	1990	2000	2010	2013
Commerce international (en % du PIB)	24,6	27,0	38,7	38,7	49,8	55,9	59,4
PIB mondial (en milliards de dollars courants)	1 368	2 953	11 156	22 547	33 276	65 489	76 124

Source : Banque mondiale, base de données statistiques

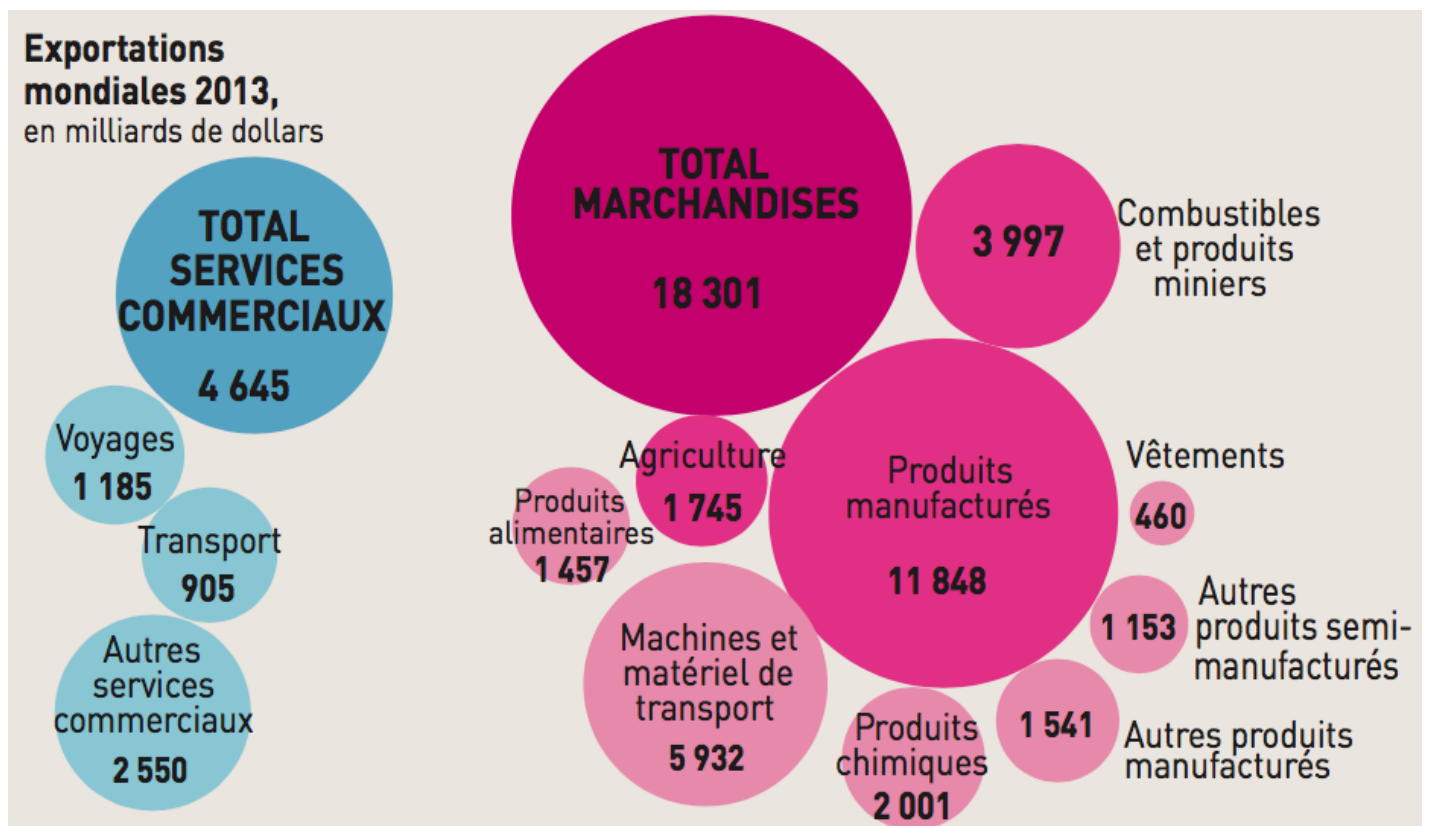
- 1) Faites une phrase significative avec les deux données pour l'année 2013.
- 2) Calculez pour 1960 et 2013 la valeur du commerce international en milliards de dollars courants.
- 3) Comment a évolué le PIB mondial et la part du commerce international dans le PIB entre 1960 et 2013 ?

Document 2 : Les échanges internationaux aujourd'hui

Document A : Principaux flux de marchandises en 2013 (en milliards de dollars)



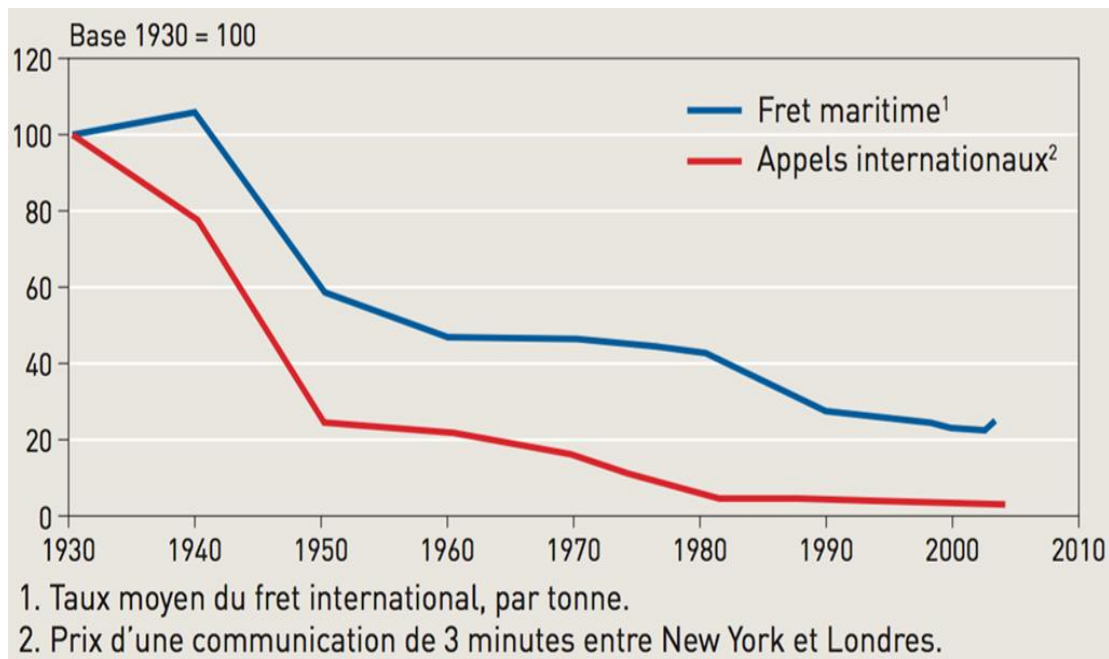
Document B : Exportations mondiales en 2013, en milliards de dollars



Source : Statistiques du commerce international, OMC, 2014

- 1) Qui échange ? Avec qui ? Faites plusieurs constats et illustrez les avec des chiffres.
- 2) Qu'est-ce qui est échangé ? Faites plusieurs constats et illustrez les avec des chiffres.

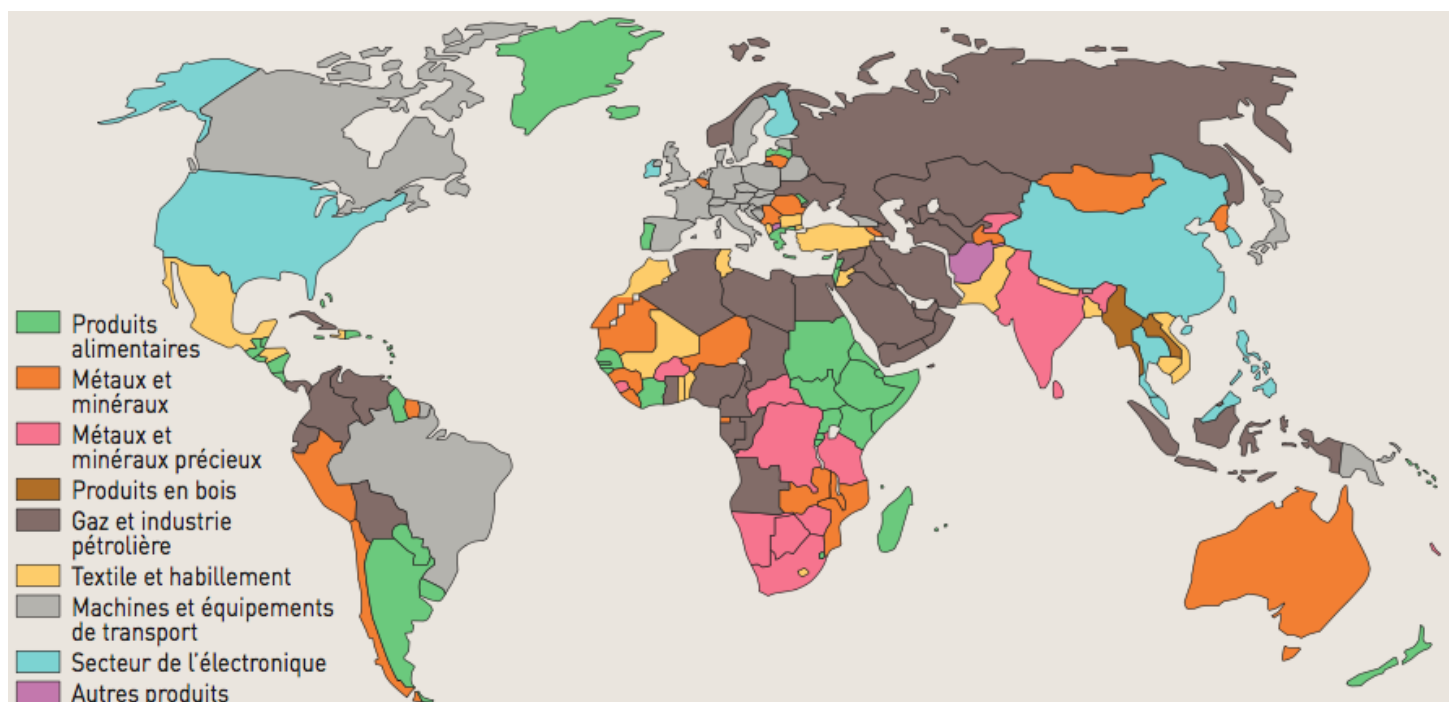
Document 3 : La diminution des coûts de transport et de communication



Source : *Perspectives économiques de l'OCDE*, 2007

- 1) Faites une phrase avec les données du fret maritime et des appels internationaux pour l'année 2000.
- 2) Comment expliquer la diminution des coûts du transport et des communications ces dernières années ?
- 3) En quoi la diminution des coûts du transport et des communications favorise-t-elle le développement du commerce international ?

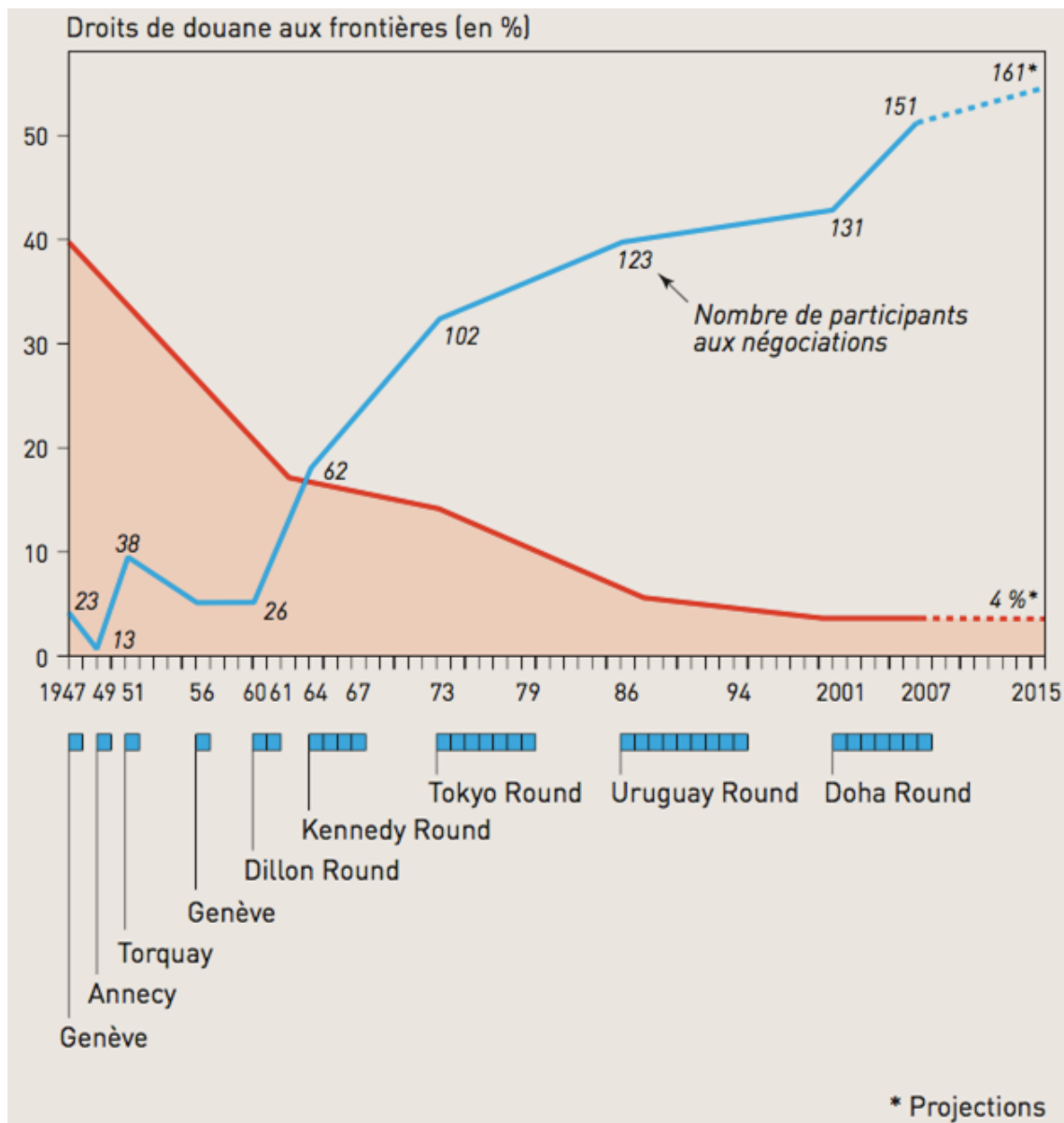
Document 4 : La spécialisation : type de marchandise la plus exportée par pays (en valeur)



Source : Simran Khosla, globalpost.com, mai 2014

- 1) Quels types de produits sont exportés par les pays les plus développés ? Par les pays les moins avancés ?
- 2) Pourquoi les pays se spécialisent-ils ? Utilisez pour répondre les notions de « dotation factorielle » et « avantage comparatif ».
- 3) Quelles sont les conséquences de la spécialisation des économies sur les échanges internationaux ?

Document 5 : La baisse des droits de douane : du GATT à l'OMC (1947 - 2015)



Source : Marie-Françoise Durand, *Atlas de la mondialisation*, 2007

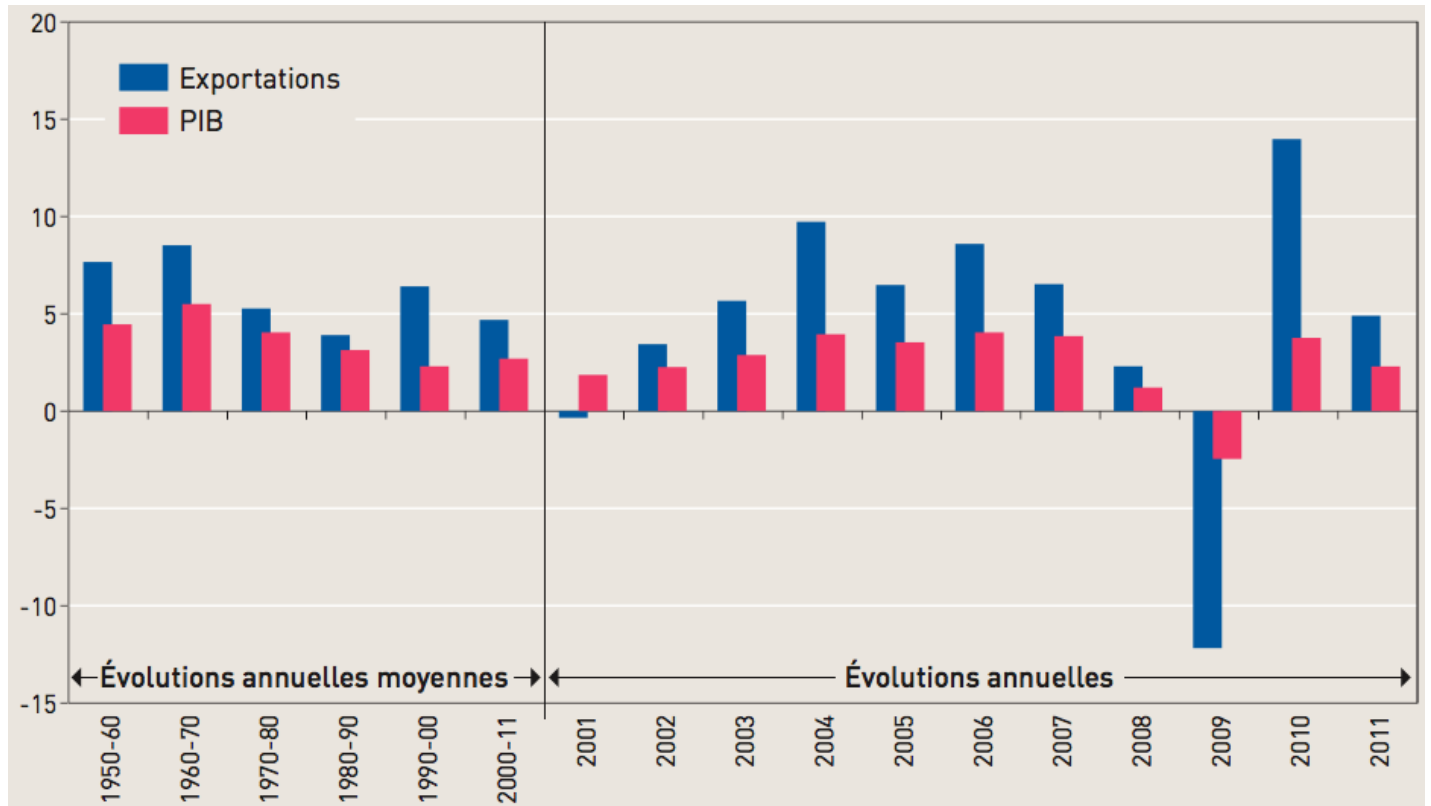
Le **GATT** (accord général sur les tarifs douaniers et le commerce), est signé en 1947 afin d'élaborer des règles régissant le commerce international. En 1995, il cède la place à l'Organisation mondiale du commerce (**OMC**), qui administre un système d'accords multilatéraux notamment pour réduire les obstacles au commerce (droits de douane) et favoriser la liberté des échanges.

- 1) Quelles sont les missions du GATT et de l'OMC ?
- 2) Peut-on dire que leur action sur les droits de douane a été efficace depuis 1947 ? Justifiez votre réponse.
- 3) Quel est l'impact de la baisse des droits de douane sur le prix des marchandises exportées ?
- 4) Pourquoi l'action de l'OMC est-elle de nature à renforcer les échanges internationaux ?

Tâche finale

Vous présenterez le document puis vous comparerez l'évolution des exportations mondiales et du PIB mondial entre 1950 et 2011.

Evolution des exportations mondiales et du PIB mondial en %



Source : Statistiques du commerce international, OMC, 2012